



**CHIHUAHUA**  
GOBIERNO DEL ESTADO  
*Juntos Sí podemos*

# Cuadernillo de Evaluación **DIAGNÓSTICA**

**2023-2024**



**NOMBRE:** \_\_\_\_\_

**ESCUELA:** \_\_\_\_\_

**GRUPO:** \_\_\_\_\_


**INSTRUCCIONES:** Escucha con atención la lectura y realiza lo que te indique tu maestra o maestro.

**La mariposa vanidosa**

Había una vez una mariposa que le encantaba ir de flor en flor y ver los colores. Todos los días en el espejo de un auto veía sus alas negras, pero no le gustaban.

Un día decidió pintar sus alas amarillas como los girasoles. Al posarse sobre los rosales y laureles pensó que ese color le quedaba hermoso.

Se resguardó en el árbol para secar sus alas, pero la lluvia apareció y la pintura se escurrió. Escuchó unas fuertes carcajadas, eran sus amigos los caracoles que la veían desde lo alto de una piedra.



Rita Meza


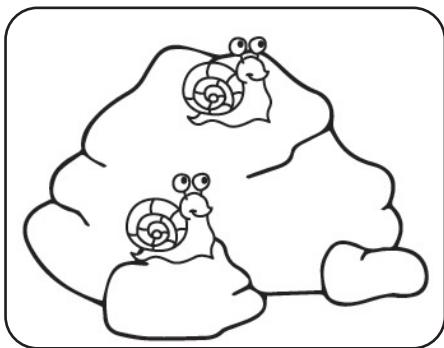
**1. ¿Qué pintó la mariposa?**

- A Sus alas.
- B Las flores.
- C La piedra.


**2. ¿En qué lugar estaba la mariposa?**

- A En un zoológico.
- B En un jardín.
- C En un río.

**3. Ordena del 1 al 3 las imágenes según sucedió en la historia.**



4. Escribe en la siguiente ficha de recomendación tu opinión sobre el cuento “La mariposa vanidosa”.

 Título: \_\_\_\_\_  
Autor: \_\_\_\_\_  
Me gustó porque... \_\_\_\_\_  
\_\_\_\_\_  
\_\_\_\_\_  
\_\_\_\_\_

5. Escribe las palabras que te dicte tu maestra o maestro.

1. \_\_\_\_\_
2. \_\_\_\_\_
3. \_\_\_\_\_
4. \_\_\_\_\_
5. \_\_\_\_\_
6. \_\_\_\_\_
7. \_\_\_\_\_
8. \_\_\_\_\_
9. \_\_\_\_\_
10. \_\_\_\_\_

6. Escribe dos enunciados que te dicte tu maestra o maestro.

1. \_\_\_\_\_
2. \_\_\_\_\_

7. Describe cómo es la mariposa del cuento anterior.

8. ¿Cuál regla del salón ayuda a evitar que se burlen de una compañera o un compañero?

- A Respetar a nuestros compañeros.
- B Asistir puntual a la escuela.
- C Cuidar los materiales.

9. ¿Qué tipo de texto es el siguiente?



¡Calaca! ya suelta a las monarcas  
que encontraste en el panteón,  
no es su culpa estar tan guapas,  
¡mejor ponte un sombrero!

*Texto creado para fines didácticos MEyAD.*

- A Un cuento.
- B Una calaverita.
- C Una obra de teatro.

Lee el texto y contesta el reactivo 10.

**Obra. El ratón y el gorila**

**Personajes:** el ratón y el gorila.

**Escenario:** la selva.

**Primer acto:**

Se abre el telón. El ratón está paseando tranquilamente por la selva un día soleado.

**Ratón:** (camina despreocupado) - ¡Que día tan bonito hace hoy! Seguro que encuentro algo con que divertirme mientras estoy de paseo. (Justo en ese momento se encuentra unas bananas que alguien ha olvidado en el camino).

**Gorila:** (camina triste) - Pero ¡que hambre tengo!...

**Ratón:** (astuto y generoso) - Por suerte me encontré unas bananas, ¿quieres una?

<https://www.calameo.com/read/0065818973607ec291088>

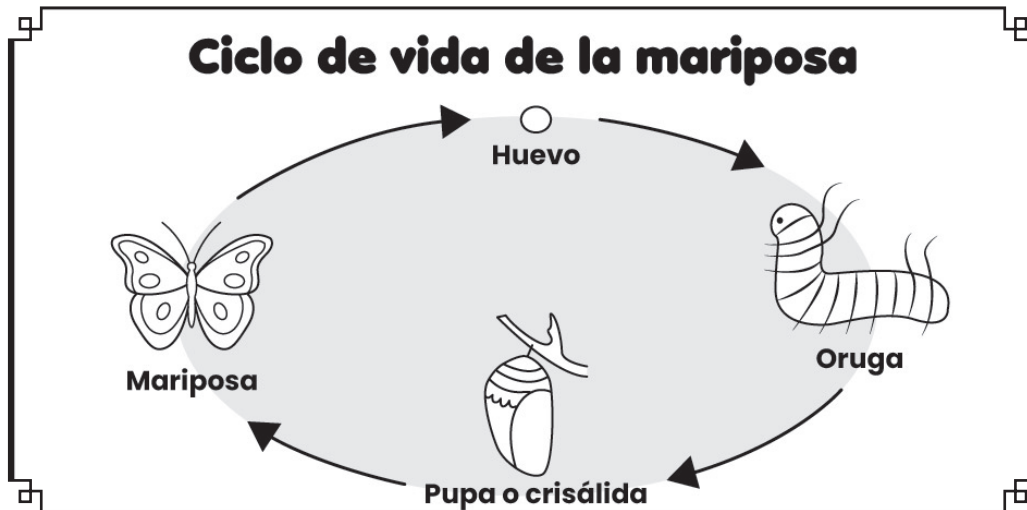
Consultado el 04 de julio del 2023.

Texto adaptado para fines didácticos.

10. ¿Cuál personaje de la obra es astuto y generoso?

- (A) El ratón.                      (B) El león.                      (C) El gorila.

Observa la infografía y contesta el reactivo 11.



11. ¿De qué tema trata la infografía?

- (A) Del cuidado de la salud.  
 (B) De la educación en México.  
 (C) Del ciclo de vida de la mariposa.

Lee la noticia y contesta el reactivo 12.

# NOTICIAS

## Noticias preocupantes para las poblaciones de mariposas monarca



La mariposa monarca está en riesgo de desaparecer. Ellas viajan en invierno desde Estados Unidos y Canadá para protegerse del frío en los bosques del centro de México, pero estos bosques se han reducido enormemente debido a la intervención de la humanidad.

Ayudan a polinizar las plantas, ya que al pararse en las flores se llevan el polen en sus patas, haciendo que se reproduzcan. La mayoría de las plantas que nos alimentan dependen de este proceso tan importante.

<https://www.worldwildlife.org/descubre-wwf/historias/noticias-preocupantes-para-las-poblaciones-de-mariposas-monarca>  
Consultado el 04 de julio del 2023.


*Texto adaptado para fines didácticos.*

12. ¿Por qué están en riesgo las mariposas monarca?

- (A) Porque polinizan las flores.
- (B) Porque los bosques donde pasan el invierno se han reducido.
- (C) Porque viajan desde Estados Unidos y Canadá hasta México.

13. Son características del tronco de un árbol, menos una. ¿Cuál es?

- (A) Esponjoso
- (B) Resistente
- (C) Duro



Observa la imagen y responde el reactivo 14.



14. ¿De qué otra forma se le puede nombrar a la palabra subrayada?

La Doña riega la maceta.

- (A) Dueña
- (B) Señora
- (C) Directora

# MATEMÁTICAS

1. Las nietas y los nietos de Doña Meche juegan en el jardín, ¿cuántos son?

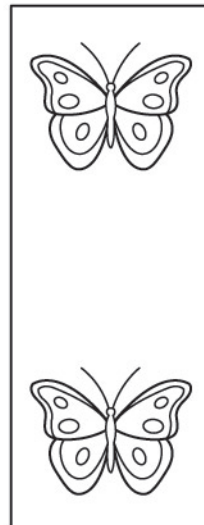



(A) 2

(B) 4

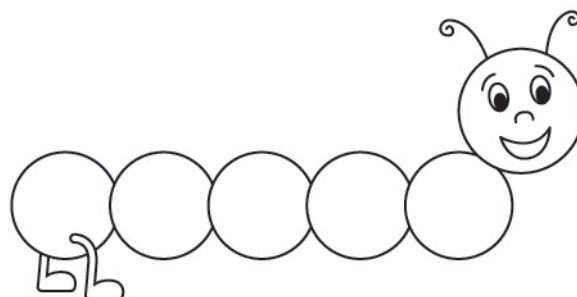
(C) 6

2. Las niñas y los niños persiguen 5 mariposas que hay en el jardín, de repente llegan 2 más. ¿Cuántas mariposas hay en total?



¿Qué hiciste para saberlo?


3. Dibuja las patitas que le faltan al gusanito para completar 10.





Lee y contesta los reactivos 4 y 5.

4. En el jardín hay tres árboles frutales. Completa la tabla para saber cuántos frutos tiene cada uno.



Fruta	Marca	Números
Durazno	///	
Manzana	///	
Naranja	///	////


5. ¿De cuál fruta hay más?

(A) Naranja

(B) Durazno

(C) Manzana

6. Escribe los números del 1 al 5 para ordenar las imágenes desde lo que sucedió primero hasta el final.



# MATEMÁTICAS


7. Doña Meche riega los árboles los jueves. ¿Cuál es el nombre del día que está antes del jueves?

(A) Lunes

(B) Miércoles

(C) Viernes

Observa y contesta los reactivos 8 y 9.



8. Encierra la maceta que le cabe más tierra.

9. ¿Qué tienen en común la puerta y las ventanas de la casa?

(A) 3 lados rectos.

(B) 4 lados rectos.

(C) 1 lado curvo.

10. Luis quiere comprar una bolsa de fertilizante para plantas que cuesta



Tiene  , ¿cuánto le falta para completarlo? Encierra la operación que necesita realizar.

$$90 - 45 =$$

$$90 + 45 =$$

11. Doña Meche limpió y reforestó el jardín. Ordena del 1 al 3 de la bolsa más pesada a la más ligera.

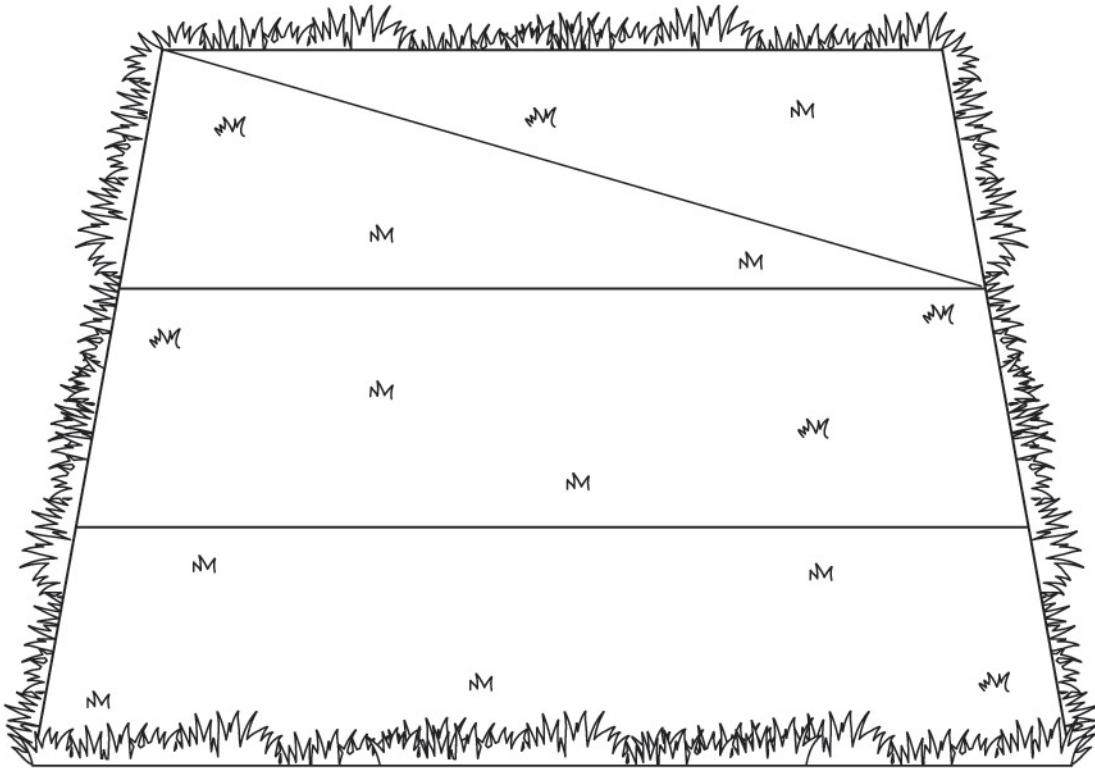


12. Doña Meche compró un costal de tierra de \$70 pesos y un sobre de semillas de fresa que le costó \$19 pesos. ¿Cuánto pagó en total?



Lee y contesta los reactivos 13 y 14.

Las nietas y los nietos de Doña Meche quieren sembrar plantas diferentes, por lo que dividieron el terreno en triángulos.



13. ¿Cuántos triángulos faltan en el dibujo?

(A) 2 triángulos.

(B) 4 triángulos.

(C) 6 triángulos.

14. ¿Cuántos tipos de semillas diferentes podrán sembrar en el huerto?

(A) 2 tipos de semillas.


(B) 4 tipos de semillas.

(C) 6 tipos de semillas.

## CONOCIMIENTO DEL MEDIO

Lee y contesta el reactivo 1 y 2.


Don Carlos mantiene limpio y ordenado el patio de la escuela donde juega José con sus amigos durante el recreo, pero cuando van a regresar a clases ya está sucio y lleno de basura. Todos los días se puede ver a Don Carlos con su trazo y su escoba por toda la escuela.



1. ¿Cuál regla deben respetar las niñas y los niños durante el recreo para conservar limpio el patio de la escuela?


- (A) Saludar y despedirse .
- (B) Tirar la basura en su lugar.
- (C) Evitar correr en las escaleras.

2. Marca con una ✓ lo que se debe hacer en el recreo para evitar accidentes.



## CONOCIMIENTO DEL MEDIO

3. José se cayó en el recreo, lo llevaron al hospital y le pidieron un documento con su nombre completo, CURP, fecha y lugar de nacimiento. ¿Cuál es?

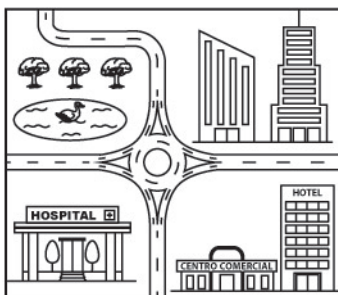


(A)

(B)

(C)

4. La mamá de José quiere llegar al hospital. Ya que no conoce la ciudad ¿Qué utiliza para llegar?




(A)

(B)

(C)

5. Don Carlos nació en un lugar que tiene muchos elementos naturales. Marca con una ✓ ese lugar.



6. Don Carlos es encargado de limpiar la escuela, regar y cuidar las áreas verdes. ¿Cuál es su función en la escuela?

- A El director.
- B La maestra.
- C El personal de apoyo.


7. La mamá de José cocinó pollo con crema para la comida. ¿A cuál grupo de alimentos corresponde el pollo?

- A Leguminosas y alimentos de origen animal.
- B Frutas y verduras.
- C Cereales.

8. ¿Qué debe hacer José antes de comer?


- A Cepillarse los dientes.
- B Lavarse las manos.
- C Bañarse.

9. Encierra la fuente de luz natural que hay en el lugar donde vive Don Carlos.



## CONOCIMIENTO DEL MEDIO

10. José tiene un perro desde cachorro. Ordena del 1 al 3 cómo ha crecido el perro con el tiempo.



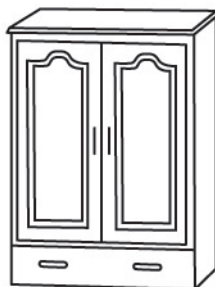
11. José baña al perro, ¿cómo puede ahorrar agua?

- (A) Usando una manguera.
- (B) Usando una cubeta.
- (C) Usando la regadera.

12. José talla al perro con algo flexible y ligero, ¿qué es?

- (A) Un cepillo.
- (B) Una cubeta.
- (C) Una esponja.

13. José limpia su cuarto. Marca con una ✓ el objeto que puede mover.



14. ¿Qué hace la mamá de José cuando él se enferma?

- (A) Pedirle que se bañe.
- (B) Llevarlo rápido al hospital.
- (C) Acompañarlo cuando va a la tienda.